

XEOGRAFÍA

OPCIÓN A

1.- Defina, nun máximo de cinco liñas, unicamente catro dos seguintes termos xeográficos, indicando algún exemplo en relación con España ou Galicia: acuicultura, desagrarización, cunca fluvial, litosfera, transición demográfica, tectónica de placas. (Puntuación máxima 2 puntos; 0,5 por termo ben definido).


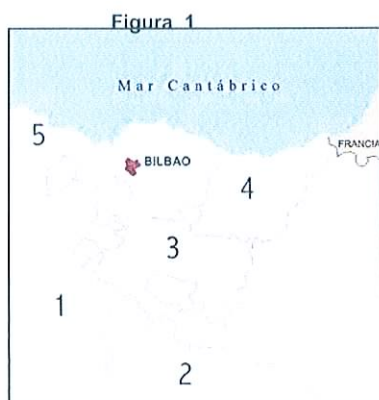
1.- Defina, en un máximo de cinco liñas, únicamente cuatro de los siguientes términos geográficos, indicando algún ejemplo en relación con España o Galicia: acuicultura, desagrarización, cuenca fluvial, litosfera, transición demográfica, tectónica de placas. (Puntuación máxima 2 puntos; 0,5 por término bien definido).

2.- Atendendo aos documentos, conteste (puntuación máxima 4 puntos):

- a) Identifique as cinco provincias numeradas na figura 1(1 punto).
- b) Comente os documentos atendendo ás seguintes cuestións:
 - Analice os tipos de documentos de todas as figuras e sinala os elementos naturais e humanos que aparecen nas figuras 2 e 3 (1 punto).
 - Exponha as características que definen a paisaxe industrial da figura 2 (1 punto).
 - Comente a transformación desta paisaxe (figura 3) relacionándoa coa reestruturación industrial e os novos usos do solo producidos nas últimas décadas (1 punto).

2.-Atendiendo a los documentos, conteste (puntuación máxima 4 puntos):

- a) Identifique las cinco provincias numeradas en la figura 1(1 punto).
- b) Comente los documentos atendiendo a las siguientes cuestiones:
 - Analice los tipos de documentos de todas las figuras y señale elementos naturales y humanos que aparecen en las figuras 2 y 3 (1 punto).
 - Exponga las características que definen el paisaje industrial de la figura 2 (1 punto).
 - Comente la transformación de este paisaje (figura 3) relacionándolo con la reestructuración industrial y los nuevos usos del suelo producidos en las últimas décadas (1 punto).



Fuente: Editorial SM

3.- Desenvolva o tema guiado polos seguintes apartados (puntuación máxima 4 puntos):

Tema "Diversidade climática galega e a súa influencia nos ríos e na vexetación". a) Diversidade climática. b) Os ríos de Galicia. c) A diversidade bioxeográfica.

3.- Desarrolle el tema guiado por los siguientes apartados (puntuación máxima 4 puntos):

Tema "Diversidad climática gallega y su influencia en los ríos y en la vegetación". a) Diversidad climática. b) Los ríos de Galicia. c) La diversidad biogeográfica.

XEOGRAFÍA

OPCIÓN B

1.- Defina, nun máximo de cinco liñas, unicamente catro dos seguintes termos xeográficos, indicando algún exemplo en relación con España ou Galicia: área metropolitana, esperanza de vida, ría, isohieta, barlovento, enerxías renovables. (Puntuación máxima 2 puntos; 0,5 por termo ben definido).

1.- Defina, en un máximo de cinco liñas, unicamente catro de los siguientes términos geográficos, indicando algún ejemplo en relación con España o Galicia: área metropolitana, esperanza de vida, ría, isoyeta, barlovento, enerxías renovables. (Puntuación máxima 2 puntos; 0,5 por término bien definido).

2.- Atendendo aos documentos, conteste (puntuación máxima de 4 puntos):

a) Na figura 1, localice e nomee as cinco provincias limítrofes con Portugal nas que aparece a sobreira (1 punto).

b) Comente os documentos atendendo ás seguintes cuestións:

- Identifique as figuras 1 e 2 e especifique as características das rexións bioxeográficas ás que pertencen (1 punto).
- Determine os factores que condicionan a existencia desta vexetación en cada caso (1 punto).
- Relacione a vexetación con aspectos ambientais e económicos (1 punto).

2.-Atendiendo a los documentos, conteste (puntuación máxima de 4 puntos):

a) En la figura 1, localice y nombre las cinco provincias limítrofes con Portugal en las que aparece el alcornoque (1 punto).

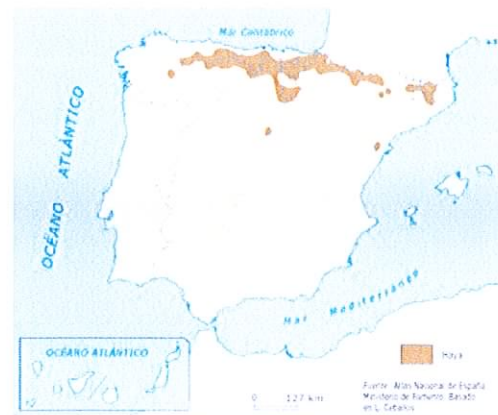
b) Comente los documentos atendiendo a las siguientes cuestiones:

- Identifique las figuras 1 y 2 y especifique las características de las regiones biogeográficas a las que pertenecen (1 punto).
- Determine los factores que condicionan la existencia de esta vegetación en cada caso (1 punto).
- Relacione la vegetación con aspectos ambientales y económicos (1 punto).

Figura 1



Figura 2



3.- Desenvolva o tema guiado polos seguintes apartados (puntuación máxima 4 puntos): Tema "Sector servizos e o proceso de terciarización da economía en España e Galicia". a) Características do sector terciario. b) Causas da terciarización. c) Contrastes na localización dos servizos.

2.-Desarrolle el tema guiado por los siguientes apartados (puntuación máxima 4 puntos): Tema "Sector servicios y el proceso de terciarización de la economía en España y en Galicia". a) Características del sector terciario. b) Causas de la terciarización. c) Contrastes en la localización de los servicios.